

2020年度入学試験問題

2月1日(午前) 実施

社 会 (30分)

〔注 意〕

1. 試験開始の指示があるまで問題を開いてはいけません。
2. 問題冊子は8ページあります。試験開始後すぐに確かめてください。
3. 解答はすべて解答用紙に記入してください。
4. 問題冊子の表紙および解答用紙には、受験番号（算用数字）と氏名をはっきり書いてください。
5. 「漢字で答えなさい」という設問については、解答を漢字で書いてください。
6. 試験終了後、解答用紙だけでなく、問題冊子も集めます。
7. 試験中、机の上から物を落したり、気分が悪くなったり、何か用ができた時は、手をあげて監督^{かんとく}の先生に知らせてください。

受験番号	
------	--

氏名	
----	--

東京女学館中学校

【1】 次の会話文を読んで、問いに答えなさい。

- 生徒A：私、マンガやアニメが大好きなんだけど、去年の7月に京アニ（京都アニメーション）の建物が放火された事件はショックだったなあ。
- 生徒B：海外のファンからも、おくやみの言葉や寄付金がたくさん寄せられているそうよ。国際連合の事務総長の「あ」さんが声明を発表したのは驚いた。
- 先生：日本のマンガやアニメは、世界中で人気があるね。日本でマンガやアニメが発達した背景には、時間の流れやストーリーの展開を絵の中で表現する絵巻物などの歴史が影響していると言われているのよ。
- A：日本で最初に絵が描かれたのはいつごろかしら。
- B：弥生時代の銅鐸どうたくに絵があったと思う。
- 先生：そうね。銅鐸いは神に祈るお祭りの場で音を鳴らす楽器などとして使われたものだから、①描かれている絵は神にお祈りした願いごとに関係があると考えられているのよ。
- A：古墳の壁画はもっときれいだったよ。
- 先生：有名な②高松塚古墳の壁画は、色あざやかに着かざった宮廷の女性たちが描かれていて、中国や朝鮮の影響を受けていることが分かっているわ。時間の流れを表現した絵としては、③聖徳太子が建てた「い」に伝わる玉虫厨子たまむしのずしに、お釈迦様しゃかの前世の物語が描かれているわ。絵と文章が交互に続いて物語が展開する絵巻物は、平安時代から数多くつくられたけど、教科書にのっていた絵巻物を覚えてるかな。
- B：私は④『源氏物語絵巻』の貴族の暮らしが印象に残っているわ。
- A：⑤鎌倉時代の元寇のときにモンゴル軍と日本の武士が戦っていた場面をととてもよく覚えてる。
- 先生：絵巻物ではないけれど、室町時代に水墨画を発展させた「う」は、⑥山口でたくさんの作品を残していて、『四季山水図巻』では四季の移り変わりを15メートルにわたって描いているわ。
- A：江戸時代には歌舞伎役者や風景を描いた「え」という絵の版画が庶民に大人気だったけど、葛飾北斎が出版した『北斎漫画』は今のマンガとまったく違ってたなあ。
- B：明治時代の漫画も教科書にのってるけれど、⑦一枚の絵で政治や社会を風刺ふうしするものがほとんどね。
- 先生：大正時代から昭和時代にかけて今のマンガやアニメに近いものがつくられるようになったけど、⑧昭和の戦争の時代になると、⑨絵画やマンガ、アニメも、国民の戦意を高めるような内容が多くなったのよ。
- A：戦争中につくられた『桃太郎の海鷲うみわし』というアニメを見たけど、桃太郎のひきいる海軍部隊が軍艦に乗って、鬼に見たてたアメリカ人の基地の島にせめこむ内容だったので、びっくりしちゃった。

先生：太平洋戦争が終わったあと、日本は戦争の反省に立って憲法をつくりなおして、平和主義を守ってきたわ。

B：だからこそ、⑩マンガやアニメを自由につくることができるようになったし、世界中の人々から受け入れられるようになったのね。

問1 文中の空らん ～ に入る語を答えなさい。 ～ については漢字で答えなさい。

問2 下線部①について、銅鐸は当時の人々が神を祭るときに使われたと考えられています。図1の銅鐸に描かれた二つの絵にふれながら、人々が神に何を祈っていたと考えられるか、説明しなさい。




図1 (伝・香川県出土銅鐸)

問3 下線部②について、この古墳がある都道府県名を、漢字で答えなさい。

問4 下線部③について、聖徳太子の行った政治として正しいものを、次の(ア)～(オ)から**全て**選び、記号で答えなさい。

(ア) 中国に遣隋使として小野妹子を送った。

(イ) 全国に国分寺と国分尼寺を建てた。

(ウ) 冠位十二階を定めた。

(エ) 蘇我氏をせめほろぼして天皇を中心とする国づくりを始めた。

(オ) 中国から僧の鑑真を招いた。

問5 下線部④について、図2の『源氏物語絵巻』には、平安時代の貴族のやしきの様子が描かれています。この時代の貴族のやしきのつくりを何と言いますか。漢字で答えなさい。



図2

問6 下線部⑤について、図3は元寇の様子を描いた『蒙古襲来絵詞』の一場面です。鎌倉幕府のもとでこの戦いに参加した御家人の武士たちは、戦いの結果、幕府に対して不満をもつようになりました。御家人が幕府に不満をもった理由を説明しなさい。



図3

問7 下線部⑥について、現在の山口県では、石油化学などの工業がさかんです。

(1) 山口県から広島県・岡山県にかけての工業がさかんな地域を何と呼びますか。
漢字で答えなさい。

(2) かつては石油化学工業がさかんな地域で、深刻な公害が問題となった時期があります。四大公害病と呼ばれる中で、石油化学コンビナートから排出されるものが原因となった公害病は何ですか。

(3) 図4は、石油化学コンビナートの所在地を示した地図です。この地図を見て、石油化学コンビナートがある場所の共通点とその理由について、説明しなさい。

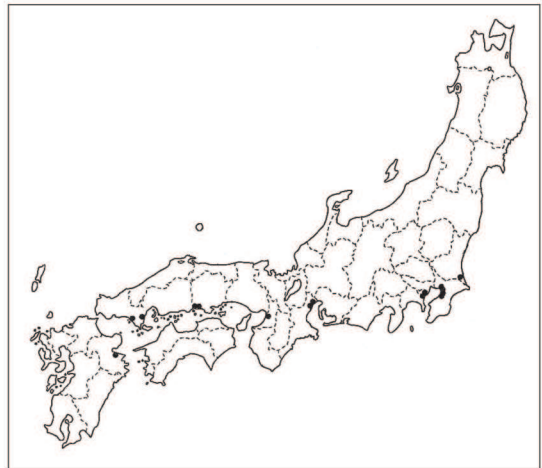


図4 石油化学コンビナートの所在地
(出典:『データでみる県勢 2019年版』、一部修正)

問8 下線部⑦について、図5は、ある戦争が始まる前の東アジアの関係を描いた風刺画です。この戦争について、次の(ア)～(オ)の中から正しいものを全て選び、記号で答えなさい。

(ア) 日本は戦争に勝って領土を手に入れたが、ロシアの干渉を受けてリャオトン(遼東)半島を返した。

(イ) 戦争に勝った日本は、朝鮮をゆずり受けて植民地とした。

(ウ) ロシアが満州で勢力を広げたため、日本はロシアと戦争を始めた。

(エ) 日本は戦争に勝ったが、賠償金を得ることができなかった。

(オ) 朝鮮が戦場となり、朝鮮人の死傷者がたくさん出た。




図5

問9 下線部⑧について、次の(ア)～(オ)の出来事を、起こった順に並べかえなさい。

(ア) 太平洋戦争が始まった。

(イ) 日本は国際連盟を脱退した。

(ウ) 日本軍と中国軍がペキン（北京）の近くで戦ったことをきっかけに、日本と中国との全面戦争が始まった。

(エ) 沖縄で地上戦が行われた。

(オ) 満州にいた日本軍が南満州鉄道の線路を爆破し、これを中国軍のしわざとして攻撃した。

問10 下線部⑨について、図6は、1941年12月に日本軍がマレー半島（現在のマレーシア）に上陸して攻撃を開始し、太平洋戦争が始まったときの様子を描いたものです。当時、マレー半島を領土としていた国はどこですか。国名を答えなさい。



図6 中村研一『コタ・バル』（1942年制作）

問11 下線部⑩に関連して、2019年に愛知県で開催された国際芸術祭「あいちトリエンナーレ2019」では、今まで日本の国内で何らかの理由で展示できなかった作品を集めた展覧会が開かれました。しかし、抗議が殺到したため、わずか3日間でいったん中止となり、その後再開されるなど、賛成・反対の両方の立場から議論が起きました。展覧会の名前の「○○の不自由展・その後」の○○にあてはまる語を、漢字2字で答えなさい。

【2】 次の文章を読んで、問いに答えなさい。

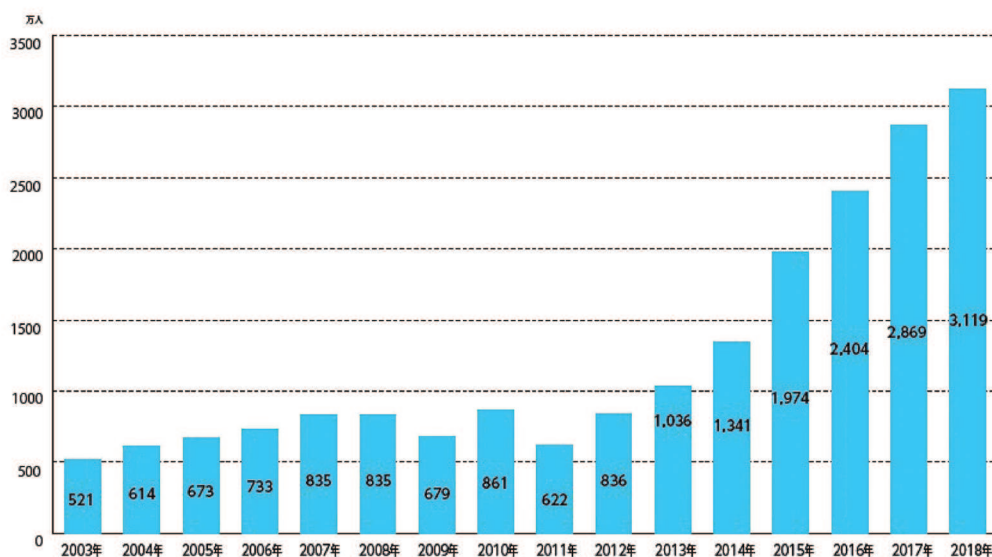
近年、日本各地で多くの外国人観光客を見かけます。下のグラフを見てもわかるように、2018年に日本を訪れた外国人の数は、3000万人をこえました。2013年に初めて1000万人をこえて以来、約5年間で3倍にまで増えたこととなります。

観光庁の発表によると、2018年に日本を訪れた外国人のうち、第1位の国は「あ」でした。「あ」からの観光客は、日本でたくさんの買い物をするところから「爆買い」という言葉もよく聞かれるようになりました。他にも上位の国はアジアの国が多く、全体でも約80%がアジア地域の国々からの観光客です。

国連世界観光機関の調べによると、世界中で観光客は増えていますが、日本を訪れる観光客は特に増えています。その背景には、日本への関心の高まりがあります。日本は歴史的な①観光地がたくさんあり、2013年には「和食」が「い」の無形文化遺産に登録され、注目を集めました。また、今年は②東京でオリンピック・パラリンピックが開催されるため、さらに日本への関心が高まると期待されています。そこで政府は、日本を訪れる外国人観光客が、2020年には4000万人、2030年には6000万人をこえることを目標としてかかっています。

このように日本を訪れる外国人が増加することにも関係して、2019年1月から「国際観光旅客税」いわゆる③「出国税」という新しい税金がつけられました。これは、日本人外国人にかかわらず、日本国外に出国するとき一人1000円が徴収されるというものです。政府は集めた税金を、「地域の文化を生かした観光政策」や「出入国管理の強化」に使うとしています。

これからも、さらに日本を訪れる外国人は増え、④人もモノも今まで以上に行き交う世界となることでしょう。



訪日外国人旅行者数（出典：観光庁『持続可能な観光先進国に向けて』）

- 問1 文中の空らん **あ** にあてはまる国名を答えなさい。
- 問2 文中の空らん **い** にあてはまる語は、国連の機関の一つです。**カタカナ**で答えなさい。
- 問3 下線部①について、以下の写真1～3は、外国人観光客にも人気の観光地の写真です。



写真1



写真2

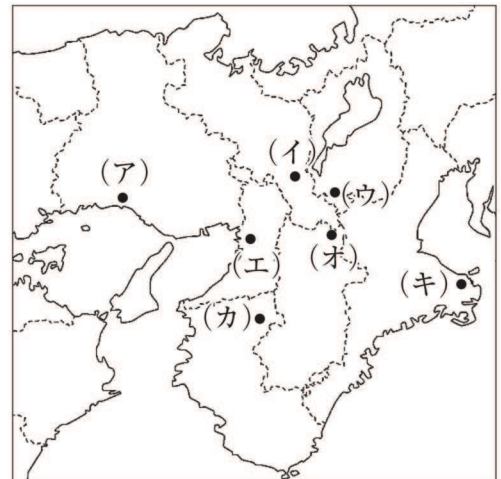


写真3

(写真2はブリタニカイメージクエストより転載)

- (1) 写真1は、東大寺の大仏ですが、東大寺が建てられた時代にまとめられた、天皇から庶民までは幅広い人々の歌が収められた歌集の名前を**漢字**で答えなさい。

- (2) 写真2は、白鷺城しらさぎとも呼ばれ、日本で最初の世界文化遺産に登録された城です。その場所を、右の地図の(ア)～(キ)から選び、記号で答えなさい。



- (3) 写真3の建物の説明として正しいものを、次の(ア)～(オ)から**二つ**選び、記号で答えなさい。

(ア) この建物は、室町幕府の将軍足利義政が建てたものである。

(イ) この建物には、書院造というつくりが見られる。

(ウ) この建物を建てた人物の保護を受けて、観阿弥・世阿弥が能を大成した。

(エ) このような豪華な建物が建てられた背景には、明との貿易の利益があった。

(オ) この建物の前には、枯山水の庭園が広がっている。

問4 下線部②について、

(1) 東京オリンピック・パラリンピック開催にあたり、様々な省庁で準備や対策を行っています。次の(A)(B)のことがらに最も関連の深い省庁を、下の(ア)～(コ)から一つずつ選び、記号で答えなさい。

(A) 道路や空港の整備をしてより移動しやすいようにする

(B) 医療機関において外国人の患者を受け入れる環境を整備する

(ア) 宮内庁	(イ) 経済産業省	(ウ) 厚生労働省
(エ) 外務省	(オ) 国土交通省	(カ) スポーツ庁
(キ) 防衛省	(ク) 農林水産省	(ケ) 環境省
(コ) 財務省		

(2) 今回の東京オリンピック・パラリンピックでは、競技場だけでなく公共の乗り物や施設、道路などにおいても、障がいの有無にかかわらず利用しやすいデザインを考え、設置や改良がされています。このようなデザインのことを何と言いますか。

問5 下線部③について、

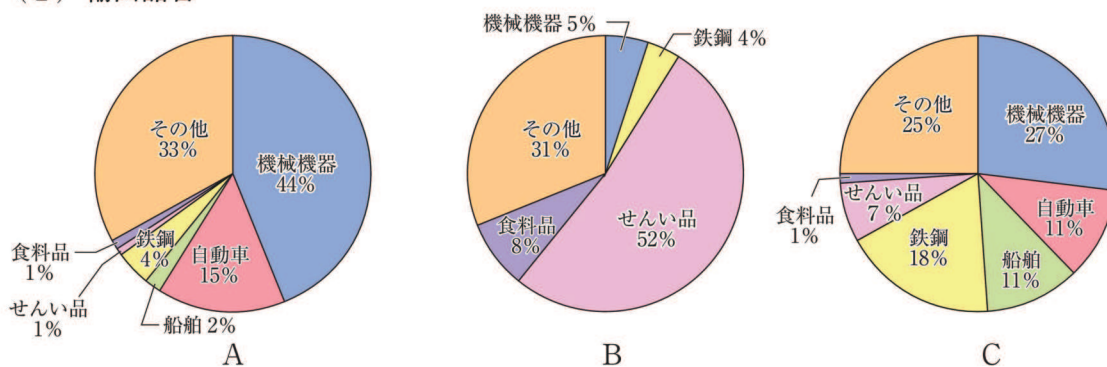
(1) 出国税は、国に納める国税です。次の(ア)～(エ)のうち、国税に分類されるものを**全て**選び、記号で答えなさい。

(ア) 所得税 (イ) 住民税 (ウ) 法人税 (エ) 固定資産税

(2) 2019年10月から消費税は、10%に増税されました。増税と同時に、商品によっては、税率を8%のままにする「軽減税率」という制度も導入されました。8%のままである商品の例を一つ挙げて、なぜそのような商品に軽減税率が適用されたのか、説明しなさい。

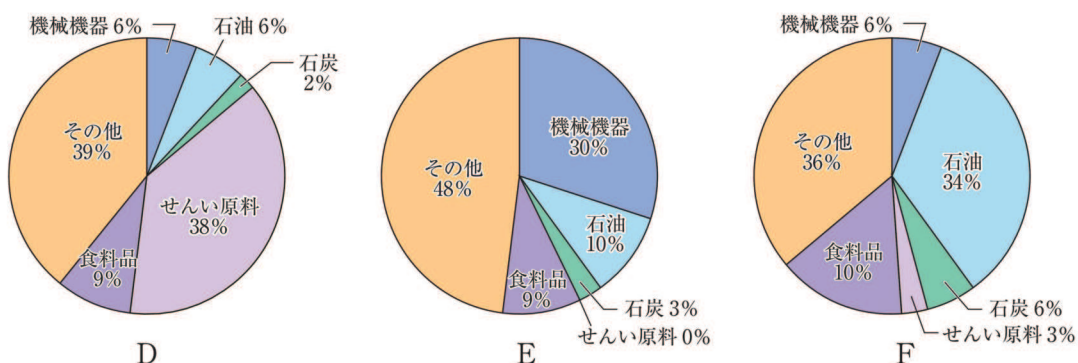
問6 下線部④について、次の表は、1935年、1975年、2017年の日本の輸出品目と輸入品目について表したものです。輸出品目と輸入品目について、それぞれ正しい年代順に並べ替えたものを、下の(ア)～(カ)から選び、記号で答えなさい。

(1) 輸出品目



- (ア) A→B→C (イ) A→C→B (ウ) B→A→C
 (エ) B→C→A (オ) C→A→B (カ) C→B→A

(2) 輸入品目



- (ア) D→E→F (イ) D→F→E (ウ) E→D→F
 (エ) E→F→D (オ) F→D→E (カ) F→E→D

(グラフは『アクティブ地理総合』(浜島書店)のデータより作成)

問7 あなたは日本にあるラーメン屋の店主だとします。海外からの観光客を迎え入れるうえで、どのような工夫が必要だと思えますか。具体的にあなたの考えを述べなさい。

(以上)

2月1日 社会 出典の補足

【1】 図2・5 教育出版『小学社会6上』2017年より転載

【1】 図3 宮内庁三の丸尚蔵館所蔵、教育出版『小学社会6上』2017年より転載



受験番号	
------	--

氏名	
----	--



2020 年度入学試験

東京女学館中学校

2月1日(午前) 実施

社会解答用紙

評	点

【1】

問1	あ	い	う	え
問2	-----			
問3	問4	問5		
問6	-----			
問7	(1)	工業地域	(2)	
	(3)	-----		
問8	問9	→ → → →	問10	
問11				

【2】

問1	問2		
問3	(1)	(2)	(3)
問4	(1) (A)	(B)	(2)
問5	(1)	-----	
	(2)	-----	
問6	(1)	(2)	
問7	-----		