

令和6年度入学試験問題

2月3日 実施

社 会 (30分)

〔注 意〕

1. 試験開始の指示があるまで問題を開いてはいけません。
2. 問題冊子は10ページあります。試験開始後すぐに確かめてください。
3. 解答はすべて解答用紙に記入してください。
4. 問題冊子の表紙および解答用紙には、受験番号（算用数字）と氏名をはっきり書いてください。
5. 「漢字で答えなさい」という設問については、解答を漢字で書いてください。
6. 試験終了後、解答用紙のみ集めます。問題冊子は持ち帰ってください。
7. 試験中、机の上から物を落としたり、気分が悪くなったり、何か用ができた時は、手をあげて監督かんとくの先生に知らせてください。

受験
番号

氏
名

東京女学館中学校

【1】 中学3年生のAさんとその妹Bさんの会話文を読んで、次の問いに答えなさい。

A：あと2か月で小学校も卒業ね。

B：お友達がたくさんできて、楽しかったなあ。

A：中学生も勉強は大変になるけど、クラブや委員会で友達はたくさんできるし、楽しいわよ。そういえば、この前、授業で先生が話してくださったのだけれど、世界には小学校に通えない①子どももたくさんいるみたい。特にサハラ以南のアフリカ（サハラ砂漠より南のアフリカ）では 人に一人が小学校に通えないんですって。

B：え、そうなの？ どうして学校に通えないのかしら。

A：「②紛争や戦争中だから」「③障がいがあるから」「④女の子だから」などの理由があるみたい。⑤日本でもかつては、学校に通っていない子どもも多くいたみたいね。学校に通えない子どもは何をしているんだと思う？

B：おうちの人のお手伝いとかかしら。

A：そうね。⑥働いている子どもや結婚をさせられる女の子もいるみたい。

B：私も早く働いたりしてみたいな。

A：働きたくて働いているわけじゃないのよ。学校に行きたくても行けないの。チョコレートの原料のカカオ豆をつくっているアフリカのカカオ農園では、体が小さくて木に登りやすい、手が小さくてもカカオ豆をとる作業ができる、といった理由で、たくさん子どもたちが学校にも行けずに働かされているんですって。

B：それは、なんとかしなければいけないね。

A：⑦国際連合では、2030年までに国際社会で一致団結して、さまざまな問題に取り組む目標を決めていて、「質の高い教育をみんな受けられるように」というのもその目標の一つにしているみたいよ。

B：「SDGs」でしょう。聞いたことがあるわ。

A：日本では小学校や中学校に通うのは当たり前と考えられているけれど、世界をながめてみたら、そんなこともないのよ。学校でいろんなことを学んだり、自分の将来に向かってがんばれるチャンスすらない子どもがいるって考えると、不公平よね。

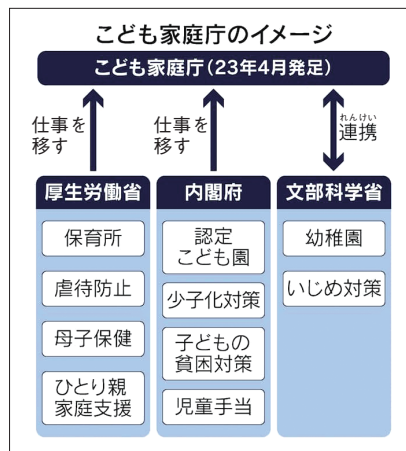
B：そうね。そういう子どもをなくすために、できることを探してみようかしら。

A：チョコレートの「ブラックサンダー」を作っている会社では、収入の一部をアフリカのガーナに寄付をしたり、児童労働のカカオ豆を使用しないようにしたりして、支援をしているそうよ。

B：そうなのね。私たちの身のまわりにも、できることがあるのね。

問1 下線部①について、日本では2023年4月に子どもに関する新しい省庁として「こども家庭庁」が発足しました。以下の問いに答えなさい。

(1) 「こども家庭庁」という新しい組織が作られた理由を下の図表1-1を参考にして説明しなさい。



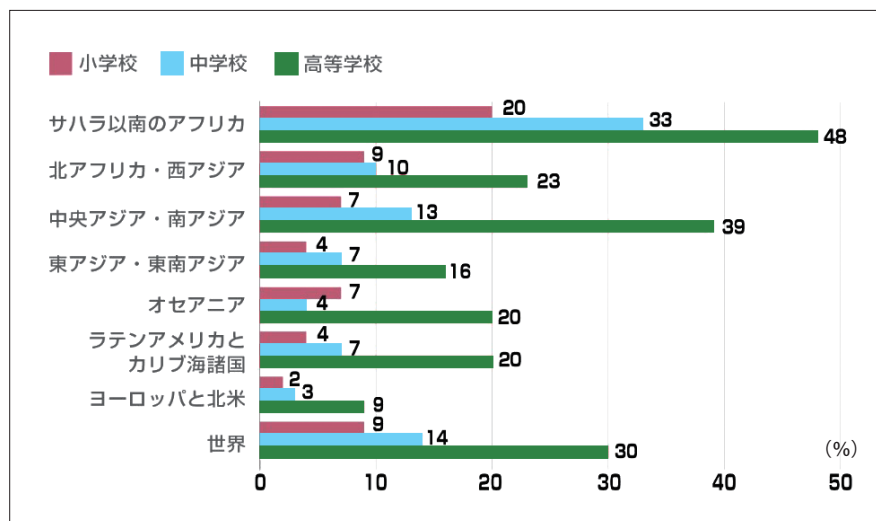
図表1-1 こども家庭庁のイメージ
 (「日本経済新聞電子版」2022年2月25日記事より一部改訂)

(2) (1)の図表1-1にある厚生労働省の仕事として、誤っているものを次の(ア)～(エ)から1つ選び、記号で答えなさい。

- (ア) 予防接種や乳幼児健診等の実施や費用の負担をする。
- (イ) 食中毒予防のために、飲食店や食品工場の監視や指導をする。
- (ウ) お年寄りや障がいのある人等の年金制度を整える。
- (エ) 自然災害などから命を守るために、防災・減災にとりくむ。

(3) こども家庭庁の発足にあたっては、総理大臣と各省庁の大臣たちが会議を開き、決まりました。このような会議を何と言いますか。漢字2字で答えなさい。

問2 会話文中の空らん に当てはまる数字を、下の図表1-2を見て、答えなさい。



図表1-2 学校に通えない子どもたちの割合(2021年)
 (公益財団法人日本ユニセフ協会ホームページ「SDGs CLUB」より一部改訂)

- 問3 下線部②について、紛争^{ふんそう}や戦争中に家を失ったり、迫害^{はくがい}されて命の危険にさらされたりして、他の国に逃げざるをえない人々のことを何と言いますか。漢字2字で答えなさい。
- 問4 下線部③について、現在の日本では障がいがある子どもも学校へ通うことができます。これは日本国憲法の三大原則のうち、どの原則にあたりますか。
- 問5 下線部④について、「女の子だから」「男の子だから」といった社会的・文化的につくられた性差のことをジェンダーと言います。近年、ジェンダー平等を目指していくことも世界中で課題となっています。図表1－3は、2023年6月栃木県日光市で開催^{かいさい}された先進7か国（G7）男女共同参画・女性活躍担当大臣会合^{かつやく}に参加したメンバーの写真です。この写真から日本におけるジェンダーの問題と考えられることを説明しなさい。



The G7 Ministerial Meeting on Gender Equality and Women's Empowerment

図表1－3 「読売新聞」オンライン 2023年6月25日記事より

- 問6 下線部⑤について、
- (1) 1872年に日本政府は「学制」を発令して、6歳以上の男女全員に教育を受けさせることを決めました。下の図表1－4を見て1900年代以降に就学率が上がった理由として、誤っているものを次の(ア)～(エ)から1つ選び、記号で答えなさい。

年	男	女	平均
1873	39.9	15.1	28.1
1876	54.2	18.7	38.3
1879	58.2	22.6	41.2
1890	65.1	31.1	48.9
1895	77.1	44.1	61.7
1900	90.6	71.7	81.5
1905	97.7	93.3	95.6
1910	98.8	97.4	98.1
1917	99.1	98.4	98.7

図表1－4 義務教育の就学率

(文部科学省ホームページ「学制百年史」より作成)

- (ア) 子どもを学校に通わせない保護者は罰^{ばつ}せられるようになったため。
- (イ) 授業料が無料になったため。
- (ウ) 人々の教育に対する意識が高まったため。
- (エ) 全国にたくさんの小学校が建てられたため。

(2) 1871年、満6才のときに岩倉使節団とともにアメリカに渡り、10年以上勉強して帰国し、その後女子英学塾をつくって女子教育に力をつくした人物は誰だれですか。

問7 下線部⑥について、次の図表1-5から読みとれることとして、正しいものを次の(ア)～(エ)から1つ選び、記号で答えなさい。

2000年	245,500 (16.0%)
2004年	222,300 (14.2%)
2008年	215,200 (13.6%)
2012年	168,000 (10.6%)
2016年	151,600 (9.6%)
2020年	160,000 (9.6%)

※()内は、世界の5～17歳の子ども人口に対して占める割合

図表1-5 児童労働に従事する子ども(5～17歳)の数と割合

(公益財団法人日本ユニセフ協会ホームページ
「エグゼクティブ・サマリー 児童労働 2020年の世界推計、動向、前途」2021年より作成)

- (ア) 2000年から2020年にかけて児童労働に従事する子どもの数は減り続けている。
 (イ) 2000年から2004年の4年間で最も児童労働に従事する子どもの数が減少した。
 (ウ) 児童労働に従事する子どもの割合が1割を下回ったのは2012年のことである。
 (エ) 世界の5～17歳の子ども人口は、2016年から2020年にかけて増えている。

問8 下線部⑦について、

(1) 国際連合の本部がある都市名として正しいものを次の(ア)～(オ)から1つ選び、記号で答えなさい。

- (ア) ジュネーブ (イ) ブリュッセル (ウ) ニューヨーク
 (エ) パリ (オ) ロンドン

(2) 国際連合の機関のなかで、平和と安全を守り、国どうしの争いなどを解決することを目的としているものは何ですか。**漢字7字**で答えなさい。

問9 (1) 児童労働が起きているような経済状態の国を、先進国に対して何国と呼びますか。解答らんにあうように**漢字4字**で答えなさい。

(2) このような問題を解決するために、日本でもさまざまな団体が支援活動をしています。その中で政府から独立して活動しているものを次の(ア)～(エ)から1つ選び、記号で答えなさい。

- (ア) JICA (イ) ODA (ウ) PKO (エ) NGO

【2】 クラスの中で、「自分の好きな食べもの」について、レポートすることになりました。それぞれの発表の内容を読み、以下の問いに答えなさい。

私が好きな食べものは餃子^{ぎょうざ}です。餃子は、もともとは中国で、年越しのときに食べる、おめでたい料理の1つでした。日本では、①江戸時代の史料に記載^{きざい}はあるもののあまり普及^{ふきゅう}せず、明治時代になっても、中華料理店でメニューになることはあまり多くはなかったそうです。ところが、②第二次世界大戦が終わったあとに、中国の③から④引き揚げ^あてきた人たちが、中国の一般家庭でよく食べられていた餃子を日本に伝えたので、全国各地に広まりました。「餃子の町」と言えば、⑤宇都宮です。戦争中に宇都宮にいた陸軍の軍隊が中国に出兵していたことと、餃子にかかせないニラの生産が多いことから、1990年代に町おこしのために餃子を取りあげ、それが知られるようになりました。

問1 下線部①について、江戸時代に中国との貿易が行われたところを次の(ア)～(オ)から1つ選び、記号で答えなさい。

(ア) 鹿児島 (イ) 長崎 (ウ) 山口 (エ) 大阪 (オ) 横浜

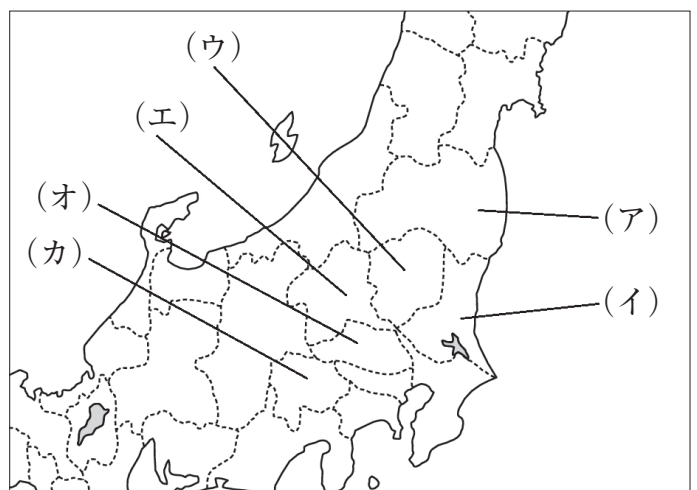
問2 下線部②について、第二次世界大戦へとつながる日中戦争の初めのころに、日本軍が占領してたくさんの市民のぎせいを出した当時の中国の首都はどこですか。

問3 ③には、日本が占領した中国の東北部の地域名が入ります。漢字2字で答えなさい。

問4 下線部④について、③で日本人の男性たちの多くがソ連軍の捕虜^{ほりよ}となり、長くて10年以上日本へ引き揚げ・帰国を許されず、ソ連の中で労働を強制される状況が続きました。その日本人たちは、主にソ連(現在のロシア)のどの地域に抑留^{よくりゅう}されたか答えなさい。

問5 下線部⑤について、

(1) 宇都宮市を県庁所在地とする県の場所を、右の地図の(ア)～(カ)から1つ選び、記号で答えなさい。



図表2-1

(2) 昨年8月、宇都宮で新たに路面電車が開通し、「次世代型路面電車システム (LRT)」と呼ばれています。宇都宮の未来を予測した次の図表2-2、2-3、2-4を見て、この路面電車の建設は、どのような問題の解決策と考えられているか、説明しなさい。

図表2-2は著作権の都合上掲載できません。

図表2-3は著作権の都合上掲載できません。

図表2-3 交通手段の構成

図表2-2 年齢別人口の推移【宇都宮市推計】

図表2-4は著作権の都合上掲載できません。

図表2-4 運転免許自主返納状況

(「芳賀・宇都宮 LRT ホームページ
宇都宮の将来～交通未来都市うつのみや～」より一部改訂)

私の好きな食べ物はお寿司です。お寿司の起源は、東南アジアの稲作地域から始まる、魚を米飯に漬けて発酵させた保存食で、それが奈良時代に日本に伝わったものだそうです。それが時代とともに変化し、酢めしの上に魚がのっている形にかわっていきました。

このようにして生まれたにぎり寿司は、江戸時代後期、当時庶民の間で気軽に食べる⑥ファーストフードでした。当時、⑦江戸にはひとり暮らしの男性がたくさん住んでいたそうで、そのため、お寿司だけでなく、天ぷらやおそばも、屋台で簡単に食べられる外食として流行していたそうです。

私が好きなお寿司は、サーモンです。お寿司の材料の中でも人気がある魚ですが、ノルウェー産のものがほとんどです。ほかの材料も、⑧国内外の各地から運んでいるものも増えていて、「江戸前ずし」つまり東京湾でとれた魚ばかりとは言えなくなっています。

お寿司は、外国人が好きな⑨和食のランキングで必ず上位に入ります。これから日本にやってくる外国の人にも、⑩日本の魚やお寿司のおいしさをぜひ知ってほしいと思います。



図表 2 - 5

歌川広重 画『東都名所高輪廿六夜待遊興之図』部分
(The British Museum 所蔵) BM-1906_1220_1045

問 6 下線部⑥について、「ファーストフード」とは、安くて早く食べられるもののことを言います。1970年代以降、アメリカからファーストフード・チェーン店は世界中に広まりました。近年、ファーストフード店ではその経営方法を、大きな利益をあげる目的だけではないと考え、新たな取り組みを進めています。その取り組みについて、ふさわしくないものを、次の(ア)～(エ)から1つ選び、記号で答えなさい。

- (ア) その国・地域でとれる食材や調味料を使用する。
- (イ) 一度にたくさんの量を作り、手間や時間をかけずに提供する。
- (ウ) スプーンやストロー、包装紙などの素材にリサイクルのものを使用する。
- (エ) 使った食材のかすや食べ残しなどを飼料やたい肥に利用する。

問 7 下線部⑦について、この理由の1つには、江戸幕府が行っていた大名に対する政策があります。大名が、たくさんの家臣たちとともに、江戸と自分の藩とを1年ごとに行き来して生活する制度を何と呼びますか。漢字で答えなさい。

問 8 下線部⑧について、現在マグロなどの魚は、とったあとに冷凍して船で運ぶ方法と、生のまま氷と一緒に冷蔵して飛行機で運ぶ方法があります。冷蔵で運ぶ方が、味が落ちず、おいしく食べられると言われ人々に喜ばれますが、一方でどのような欠点がありますか。説明しなさい。

問9 下線部⑨について、和食は、ユネスコによって何に登録されていますか。次の(ア)～(エ)から1つ選び、記号で答えなさい。

(ア) 世界遺産(文化遺産) (イ) 世界遺産(複合遺産)

(ウ) 記憶遺産 (エ) 無形文化遺産

問10 下線部⑩について、現在、日本の漁獲量^{ぎょかくりょう}は減少しています。しかし、一人当たりの魚介類消費量は増えています。魚介類の不足や、値上がりを防ぎ、人々にとって必要な量の魚介類を確保するために、どのような漁業が行われているのでしょうか。

私が好きな食べ物は、果物です。特にぶどうが好きです。ぶどうは、世界各地でもともと自然に生えていて、日本でも、山奥の中で自生していたぶどうを、現在の山梨県で栽培を始めたのだそうです。古い記録だと、1197年には、⑪信濃国（現在の長野県）にある善光寺に参詣に来た⑫源頼朝も、その途中でぶどうを食べたと伝えられているそうです。

明治時代になると、アメリカやヨーロッパから、新しい品種のぶどうやぶどうから作るワインが入ってきました。ぶどうは、水はけが良い乾燥した土地で育ちます。日本の気候にあうぶどうを見つけるために、たくさんの品種の苗を輸入したり、品種改良や研究を重ねました。そして、日本の国内で育てやすい品種のぶどうが作られるようになりました。

私は去年、⑬初めてぶどう狩りに行きました。自分の手でとって食べるぶどうは、とてもおいしかったです。私が好きなぶどうは、シャインマスカットです。甘くて食べやすいので大好きです。海外にも輸出され、とても人気があるそうです。

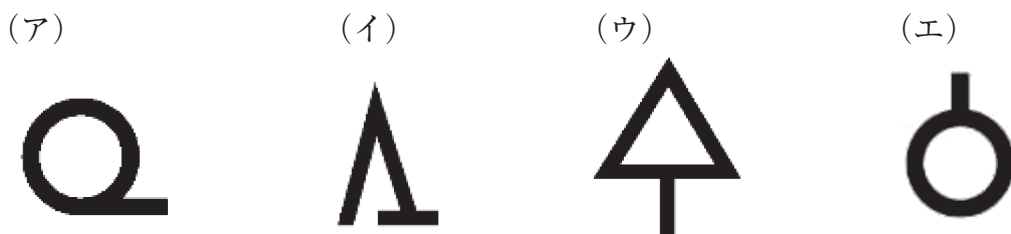
問 11 下線部⑪について、江戸時代の五街道のうち、信濃国を通るのは中山道ともう1つは何ですか。漢字で答えなさい。

問 12 下線部⑫について、源頼朝が平氏をほろぼした戦いとして正しいものを、次の(ア)～(エ)から1つ選び、記号で答えなさい。

(ア) 承久の乱 (イ) 関ヶ原の戦い (ウ) 壇ノ浦の戦い (エ) 長篠の戦い

問 13 下線部⑬について、次の各問いに答えなさい。

(1) 私がでかけたところをあらわす地図記号として正しいものを次の(ア)～(エ)から1つ選び、記号で答えなさい。



(2) 私たちは多くの場合、スーパーマーケットで野菜や果物を買います。スーパーマーケットは2020年、2021年にコロナ感染症が拡大するなかでも、大きく売り上げをのばしました。その理由を説明しなさい。

(3) 図表2-6について、このインターネットのサイトは、農業・漁業などに従事している全国の生産者の品物を、消費者が直接購入できるしくみになっています。このようなサイトの良い点はどのようなところにあると考えますか。生産者と消費者、それぞれの立場から答えなさい。

著作権の都合上掲載できません。	著作権の都合上掲載できません。	著作権の都合上掲載できません。	著作権の都合上掲載できません。
-----------------	-----------------	-----------------	-----------------

図表2-6 食べチョクホームページ

(以上)



受験番号	
------	--

氏名	
----	--



令和6年度入学試験

東京女学館中学校

2月3日 実施

社会解答用紙

評 点

【1】

問1	(1)										
	(2)	(3)									
問2		問3			問4						
問5											
問6	(1)	(2)					問7		問8	(1)	
問8	(2)						問9	(1)		国	(2)

【2】

問1		問2		問3		問4				
問5	(1)									
	(2)									
問6		問7		問8						
問9		問10		問11			問12			
問13	(1)	(2)								
	(3)									