

令和7年度入学試験問題

2月3日 実施

社 会 (30分)

〔注 意〕

1. 試験開始の指示があるまで問題を開いてはいけません。
2. 問題冊子は10ページあります。試験開始後すぐに確かめてください。
3. 解答はすべて解答用紙に記入してください。
4. 問題冊子の表紙および解答用紙には、受験番号（算用数字）と氏名をはっきり書いてください。
5. 「漢字で答えなさい」という設問については、解答を漢字で書いてください。
6. 試験終了後、解答用紙のみ集めます。問題冊子は持ち帰ってください。
7. 試験中、机の上から物を落としたり、気分が悪くなったり、何か用ができた時は、手をあげて監督^{かんとく}の先生に知らせてください。

受験
番号

氏
名

東京女学館中学校

【1】東京女学館中学校1年生のAさんは、北陸新幹線に乗って、東京駅^{つるが}から敦賀駅まで行ったことを日記にまとめました。次の文章を読み、問いに答えなさい。



図表1-1

東京駅から敦賀駅行きの①新幹線に乗りました。いままでは金沢駅までしか通っていませんでしたが、2024年3月に^あ県の敦賀市まで開通したので、家族に提案して旅行することにしました。

東京駅を出て少したつと、王子付近を通過しました。近くには国立印刷局があり、日本銀行券を印刷しています。2024年から出回るようになった新1万円札には、②東京女学館の創立者の一人でもある^いが描かれています。

③大宮駅を通り、畑のなかに④ソーラーパネルがあるのを見つ、⑤^{いなりやまこふん}稲荷山古墳の南側を通り、^いが生まれた^{ふかや}深谷市内を通過しました。群馬県に入り、⑥高崎駅からが本当の北陸新幹線の区間に入ります。これまで乗ってきた区間は正式には、東京駅～大宮駅は東北新幹線、大宮駅～高崎駅は^{じょうえつ}上越新幹線でした。

長いトンネルで群馬県をぬけ、軽井沢駅を通過し、浅間山を右手に見つ、気づいたら長野駅^{とう}に到着していました。その後、新潟県に入り、^{じょうえつみょうこう}上越妙高駅や^{いといがわ}糸魚川駅に停車しました。県境をこえて、⑦^{みづのち}水田地帯を見つ、富山駅に着きました。富山駅を発車してすぐに⑧^{じんづうがわ}神通川を鉄橋で通過し、⑨^{くりにからとうげ}源平の戦いの戦場にもなった俱利伽羅峠をトンネルでこえました。⑩金沢からは能登半島を北上する路線に乗りつぐことができます。能登半島での大きな⑪^{しん}地震の際は、私の家も大きくゆれました。

金沢駅からが新たに開通した区間でしたが、あっという間に、駅前^{きょうりゆう}に恐竜のいる^あ駅に到着し、長いトンネルをこえると終点の敦賀駅に着きました。そして、敦賀市内^とに泊まりました。

問1 空らん ・ にあてはまる語を漢字で答えなさい。

問2 下線部①について、同じ東京駅から出発する東海道新幹線は、1960年代に世界銀行からお金を借りて建設することができました。現在の日本は、発展途上国に対して、資金や技術を提供する政府開発援助を積極的に行い、世界で3番目に多い援助額を出しています。この政府開発援助の略称を、アルファベット3文字で答えなさい。

問3 下線部②について、その一人でもある伊藤博文は、明治時代に大日本帝国憲法の制定に関わりました。大日本帝国憲法を公布したときの内容として正しいものを次の(ア)～(エ)から1つ選び、記号で答えなさい。

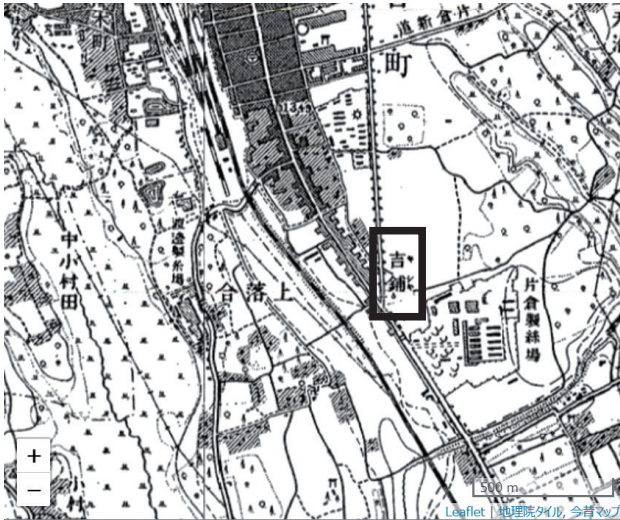
(ア) 国会は衆議院と参議院から構成される。

(イ) 天皇は陸海軍を統率する。

(ウ) 条約を結ぶのは内閣総理大臣の権限である。

(エ) すべての25才以上の男性のみに選挙権がある。

問4 下線部③について、以下の3枚の地形図は、1926年、1986年、2024年の大宮駅南側の地形図です。これらの地形図を読み取り、次の(ア)～(エ)から誤っているものを1つ選び、記号で答えなさい。



図表1-2 1926年の地形図



図表1-3 1986年の地形図



図表1-4 2024年の地形図

(★はコクーンシティというショッピングモール)

※これらの地図は、時系列地形図閲覧サイト「今昔マップ on the web」((C)谷 謙二)により、作成したものです。

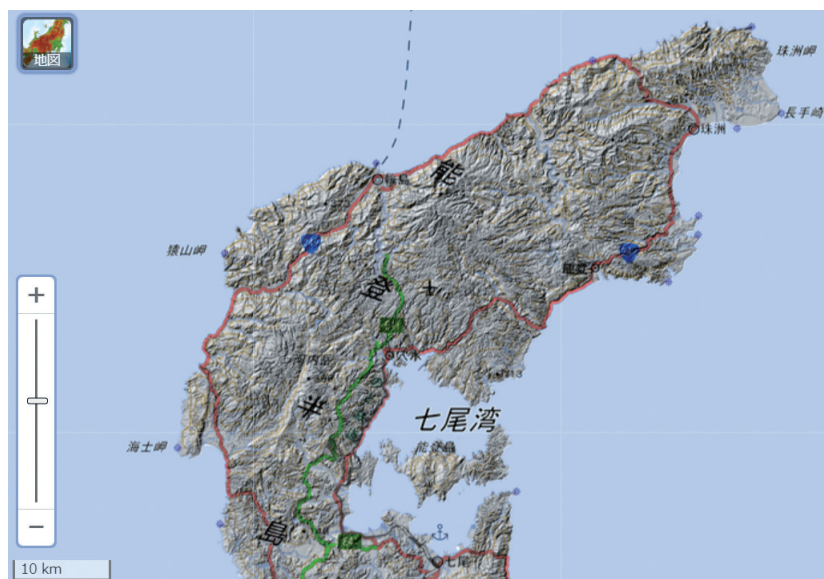
- (ア) 1926年の地形図の吉鋪の西側にある南北方向の道は、現在でも残っている。
- (イ) 2024年に、コクーンシティがあるところには、かつて片倉工場(片倉製絲場)があった。
- (ウ) 2024年に、区役所(さいたま市大宮区役所)がある場所には、1926年は町役場があった。
- (エ) 2024年に、スーパーアリーナがあるところは、1986年の地形図では貨物駅があった。

問5 下線部④について、東京女学館中学校の屋上に、2024年夏にソーラーパネルが取り付けられ、太陽光発電が行われるようになりました。これは、SDGsの7番目の目標「エネルギーをみんなに そしてクリーンに」を達成するためです。SDGsは、日本語では「持続可能な 目標」と呼ばれています。 にあてはまる語を漢字で答えなさい。

- 問6 下線部⑤について、この古墳や熊本県の江田船山古墳から、「ワカタケル大王」と刻まれた鉄剣や鉄刀が出土しています。「ワカタケル大王」は、大和朝廷の大王とされています。これらの鉄剣が奈良から離れた地域で見つかったことから、大和朝廷についてどのようなことがわかりますか。説明しなさい。
- 問7 下線部⑥の駅からは、世界文化遺産の富岡製糸場近くに向かう鉄道が出ています。これについて、次の問いに答えなさい。
- (1) 世界文化遺産にかかわる地を、次の(ア)～(オ)から**すべて**選び、記号で答えなさい。
(ア) 小笠原諸島 (イ) 沖ノ島 (ウ) 紀伊山地
(エ) 富士山 (オ) 屋久島
- (2) 富岡製糸場は明治時代に産業の近代化のために作られた、国が運営する官営工場でした。明治政府がかかげた、産業をさかんにするという方針を漢字4字で答えなさい。
- 問8 下線部⑦に関連して、日本は米のほとんどを自給できていますが、大豆や小麦の大半は海外からの輸入にたよっています。日本全体の食料自給率(カロリーで計算したもの)を、次の(ア)～(エ)から1つ選び、記号で答えなさい。
(ア) 18% (イ) 38% (ウ) 58% (エ) 78%
- 問9 下線部⑧について、四大公害病のうち、かつてこの川の流域で発生した公害病を答えなさい。
- 問10 下線部⑨について、源氏と平氏に関する出来事として正しいものを、次の(ア)～(エ)から1つ選び、記号で答えなさい。
(ア) 平清盛は、征夷大將軍になった。
(イ) 平清盛は、源氏との戦いに敗れて伊豆に流された。
(ウ) 源頼朝は、莊園を守る守護と、御家人を取りしめる地頭という役職を作った。
(エ) 源頼朝は、御家人に「御恩」として、先祖からの領地の所有を認めた。
- 問11 下線部⑩について、金沢城を拠点とした加賀藩の前田家は、江戸時代では外様大名に分類されました。外様大名とはどのような大名か、説明しなさい。

問 12 下線部①について、次の問いに答えなさい。

- (1) 能登半島地震の被災地では石川県が応急仮設住宅を建設していますが、復旧は遅れていると言われていいます。能登半島地震の被災地の復旧が遅れている理由を、図表 1 - 5 を使って説明しなさい。



図表 1 - 5 能登半島の起伏図（地理院地図より作成）

(注 1) 色の濃さは山の起伏を示しています。

(注 2) 緑色の線は高速道路、赤色の線は国道（国が管理する主要な道路）を示しています。

- (2) 2024 年 8 月 8 日に宮崎県東部の日向灘を震源とする地震によって、太平洋側の地域を中心に ● 地震臨時情報（巨大地震注意）が発表され、1 週間程度は巨大地震に注意するよう政府から呼びかけがありました。 ● にあてはまる語を 5 字で答えなさい。
- (3) 図表 1 - 6、1 - 7 の建物は地震にかかわるもので、太平洋側の静岡県や高知県の海沿いに見られます。これらの建物の高さは、10～15m あります。どのような目的で作られたのか説明しなさい。

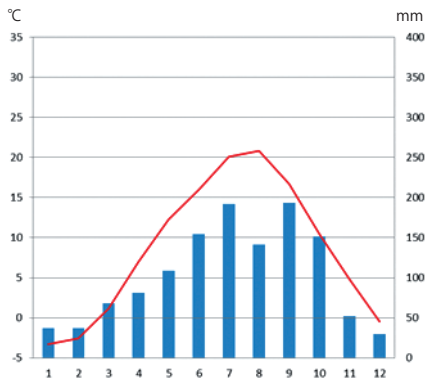


図表 1 - 6

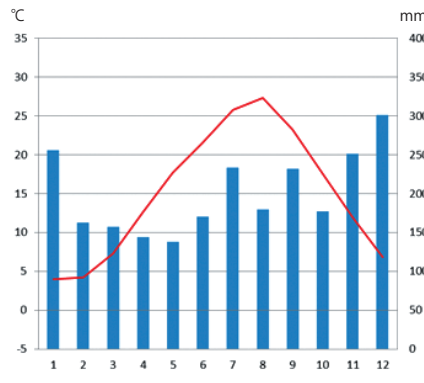


図表 1 - 7（画像の一部を加工）

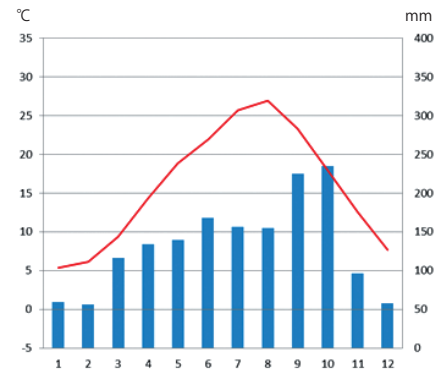
問 13 次の (ア) ~ (ウ) は、Aさんが今回通った東京、軽井沢、金沢のいずれかの雨温図です。
 軽井沢の雨温図を選び、記号で答えなさい。



(ア)



(イ)



(ウ)

(気象庁資料より作成)

問 14 東京駅から敦賀駅までに通った都道府県の数、**数字**で答えなさい。なお、東京駅および敦賀駅がある都道府県もふくめます。

[2] 今年は、戦後 80 年目にあたります。戦争の時の話を、知り合いのおばあさまからうかがうことにしました。その時の様子を記した文章を読み、問いに答えなさい。

おばあさまのプロフィール

1930（昭和 5）年 6 月、広島で生まれる。7 人兄弟の末っ子だった。3 才のときに、父親の仕事の都合で、家族とともに上京し、世田谷区に住みはじめた。小学校を卒業したあとは女学校に進学。戦後、1947 年に女学校を卒業、その後は父親の会社の仕事を手伝った。24 才で結婚し、26 才、30 才のときに出産、その後は子育てに専念する。43 才のときに、夫の転勤によって東京を離れたが、4 年後に東京に戻る。2010 年に夫が没し、現在は 94 才。

—こんにちは。今日は、お話をうかがいに来ました。よろしくお願ひします。

こんにちは。よろしくお願ひしますね。

—戦争がはじまったのは、何才のときですか。

□ 1 □ がはじまったのが、7 才のときです。アメリカやイギリスを相手に、□ 2 □ がはじまったときは 11 才でした。□ 2 □ の開戦の日には、戦勝祈願のためにみんなで学校から歩いて神社にお参りにいきました。

—戦争がはじまって、かわったことはありましたか？

はじめのうちは特に大きくかわったことはありませんでしたが、だんだんものがなくなっていきました。町内会で金属のものを集めると言われて、母は結婚したときに持ってきた大きな金属の花びんをわたしていました。

—□ 3 □ はしましたか？

もう小学校を卒業していたので、学童□ 3 □ はしませんでした。知り合いをたよって、海老名の農家の部屋を借り、姉家族と一緒に終戦の年の 4 月から□ 3 □ をしました。両親は自宅に残っていました。

—空襲にあったことはありますか？

私は幸いにも空襲にあったことはありません。でも、いつ空襲があるかわからないので、庭に□ 4 □ を掘って備えていました。飛行機が近づいてくると警報のサイレンが鳴るので、急いで□ 4 □ に入るようになっていました。あとになって、日本のあちこちの都市でたくさんの□ 5 □ が落とされて、大きな被害が出ていたことを知ったのですが、当時はそのようなニュースはほとんど聞いたことがありませんでした。今のようにテレビはないし、①ラジオのニュースや新聞でも、戦争の様子を正しく報道することはなかったですからね。

私が住んでいた下北沢は、終戦の年の 3 月 10 日の□ 6 □ のときには、ほとんど被害がありませんでした。あのときは墨田区など下町の方の被害が大きかったのですよ。私の家は、5 月 25 日に起こった山の手空襲で焼けてしまいました。父のがっかりした顔を今でも思い出します。

—徴兵されたご家族はいましたか？

兄たちは、3 人とも徴兵されて、それぞれ海外に出征しましたが、戦争が終わるとみんな無事

に引きあげてきました。出征して、全員が無事に帰ってくるなんて、めずらしいことでした。一番上の姉は、義兄の仕事の都合で一時期、②満州に行っていました。その後帰国して、私たちと一緒に□3をしました。めいたちはまだ赤ちゃんだったので、粉ミルクが□7されていました。

—学校の勉強はどうなっていましたか？

女学校に進学してしばらくすると、学校から軍需工場へ出かけて行って、働くようになりました。□8といいますね。飛行機のメーターの目盛りには、夜光塗料をぬる練習をしました。学校に行かず、朝から工場で働く日も多かったです。工場ではおにぎりが出たのがうれしかった。とにかくいつもお腹が空いていましたから。

—やはり食食物は不足していたのですか？

女学校のころには、まともなご飯は食べられなかったです。うすいおかゆの中に、葉っ葉がうかんている、というのが普通だったの。本当に情けなかった。「欲しがりません、□▲」というスローガンを聞いたことはあるかしら？でも、みんなもなかったし、何もないから、欲しいとも思わなかったように思います。勉強をする気もおこらなかった。みんな当たり前のように戦争に協力させられて、自由もなく、がまんをしていたと思います。



—戦争が終わったときには、□9は聞きましたか。

□3先で、家族と一緒にラジオで聞きました。内容は難しかったですが、戦争に負けたことよりも、戦争が終わったことにとってもホッとしました。そして下北沢に戻ってきました。焼け跡に小屋のようなものを建てて住み、その後しばらく、ものがない生活が続いたので、みんなで助け合いながら生活していました。

—戦争のときのことは思い出しますか。

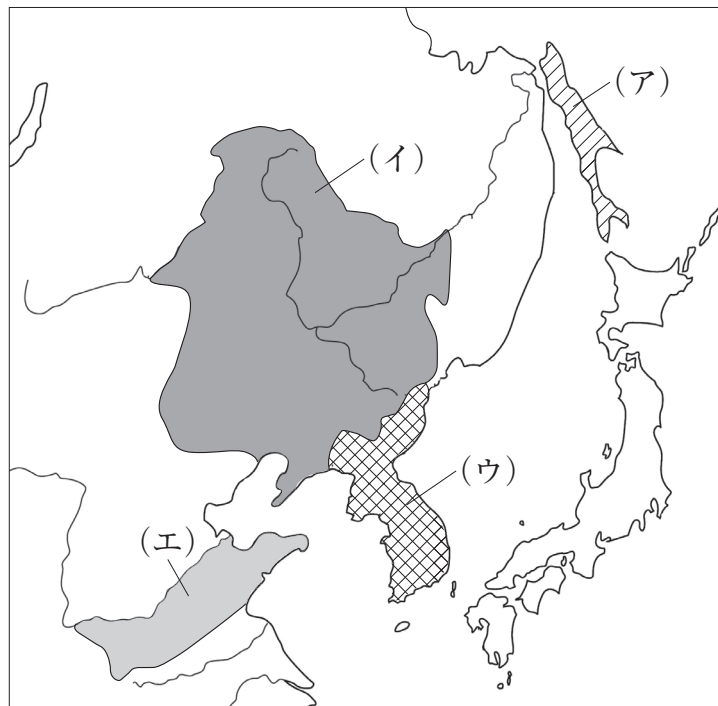
そうですね。③その後もいろいろなことがありましたが、やはり時々思い出します。今は食べ物に困らず、安心して生活ができて、本当にありがたいですね。でも、豊かになったといっても、みなさんと同じ年代のあのころの、たくさんの命がうばわれた戦争のことは忘れることができません。

問1 空らん□1～□9にあてはまる語を、次の語群の中から1つずつ選び、記号で答えなさい。

語群

- | | | | | |
|----------|-----------|-----------|-----------|----------|
| (ア) 沖縄戦 | (イ) 学徒出陣 | (ウ) 関東大震災 | (エ) 玉音放送 | (オ) 勤労動員 |
| (カ) 原子爆弾 | (キ) 焼夷弾 | (ク) 疎開 | (ケ) 太平洋戦争 | (コ) 朝鮮戦争 |
| (サ) 地雷 | (シ) 東京大空襲 | (ス) 日中戦争 | (セ) 配給 | (ソ) 販売 |
| (タ) 避難 | (チ) 平和宣言 | (ツ) 防空壕 | | |

- 問2 下線部①について、新聞やニュースが、戦争の様子を正しく伝えていなかった理由を説明しなさい。
- 問3 下線部②について、「満州」の場所を図表2-1の(ア)～(エ)の中から1つ選び、記号で答えなさい。



図表2-1

- 問4 空らん ▲ について、あてはまることばを答えなさい。
- 問5 空らん ★ の前までいくつか質問をしてきました。もしあなたがこのおばあさまに質問をするとしたら、どのようなことをうかがいますか。 ★ にあてはまるように答えなさい。前後のつながりを考え、他の質問と重ならないように注意すること。
- 問6 下線部③について、このおばあさまのその後の人生のできごとと、同じ年に起きた社会のできごととの組み合わせとして、次の(ア)～(エ)から正しいものを1つ選び、記号で答えなさい。

- (ア) 女学校を卒業した。— 日本国憲法が施行された。
- (イ) 結婚をした。— 東京で初めてオリンピックが開かれた。
- (ウ) 第2子を出産した。— 沖縄県が本土に復帰した。
- (エ) 夫の転勤で東京を離れた。— バブル経済が崩壊した。

問7 今日、戦争のころのお話を、体験した方から直接うかがうことができました。しかし、今後は、これは難しくなっていきます。そのかわりに、戦後生まれの方たちが「語り部」として、体験者からの話を受けつぎ、次の世代へ伝えるようになってきています。もし、あなたが「語り部」として、他の人に伝えるとしたら、どのようなことに気をつけたらよいと思いますか。説明しなさい。

(以上)

